


Dobbel de Tijd.

Inhoud :

- 2x Dobbel de tijd hele uren.**
- 2x Dobbel de tijd halve uren.**
- 2x Dobbel de tijd kwart uren.**
- 2x Dobbel de tijd 5 minuten.**



























vanjufmarjan.nl




Dobbel de tijd, en zoek het digitaal!

Uitleg : Gooi de dobbelsteen, welke tijd heb je gedobbeld? Zoek de digitale versie hiervan. Kun jij vijf op een rij maken?

























 	 	 
 	 	 
 	 	 
 	 	 

2:00	7:00	9:00	5:00	4:00
8:00	5:00	3:00	6:00	1:00
12:00	3:00	1:00	10:00	8:00
6:00	9:00	11:00	3:00	10:00
11:00	2:00	4:00	7:00	12:00




Dobbel de tijd, en zoek het digitaal!

Uitleg : Gooi de dobbelsteen, welke tijd heb je gedobbeld? Zoek de digitale versie hiervan. Kun jij vijf op een rij maken?

























 	 	 
 	 	 
 	 	 
 	 	 

07:00	17:00	12:00	10:00	2:00
9:00	14:00	1:00	16:00	6:00
23:00	0:00	15:00	8:00	13:00
4:00	21:00	19:00	18:00	11:00
22:00	1:00	20:00	3:00	5:00




Dobbel de tijd, en zoek het digitaal!

Uitleg : Gooi de dobbelsteen, welke tijd heb je gedubbeld? Zoek de digitale versie hiervan. Kun jij vijf op een rij maken?

























 	 	 
 	 	 
 	 	 
 	 	 

2:30	8:30	1:30	4:30	10:30
5:30	9:30	6:30	11:30	12:30
7:30	2:30	12:30	3:30	1:30
3:30	6:30	11:30	7:30	9:30
8:30	4:30	2:30	10:30	5:30




Dobbel de tijd, en zoek het digitaal!

Uitleg : Gooi de dobbelsteen, welke tijd heb je gedubbeld? Zoek de digitale versie hiervan. Kun jij vijf op een rij maken?

























 	 	 
 	 	 
 	 	 
 	 	 

10:30	15:30	9:30	6:30	1:30
14:30	20:30	5:30	12:30	4:30
11:30	21:30	8:30	19:30	22:30
13:30	0:30	18:30	2:30	17:30
7:30	5:30	16:30	23:30	3:30




Dobbel de tijd, en zoek het digitaal!

Uitleg : Gooi de dobbelsteen, welke tijd heb je gedobbeld? Zoek de digitale versie hiervan. Kun jij vijf op een rij maken?






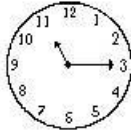



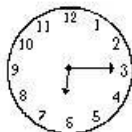





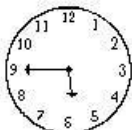

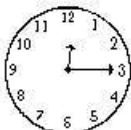






 	 	 
 	 	 
 	 	 
 	 	 

10:45	2:15	12:45	4:15	3:45
8:45	10:15	1:15	7:45	5:15
7:45	4:15	6:45	12:45	9:15
10:15	12:45	3:45	5:15	8:45
6:45	1:15	9:15	10:45	2:15




Dobbel de tijd, en zoek het digitaal!

Uitleg : Gooi de dobbelsteen, welke tijd heb je gedobbeld? Zoek de digitale versie hiervan. Kun jij vijf op een rij maken?

























 	 	 
 	 	 
 	 	 
 	 	 

6:15	17:45	1:45	11:15	23:45
8:15	3:15	14:45	7:15	12:15
5:45	0:15	23:15	18:15	9:45
19:15	21:45	11:45	4:45	20:15
16:45	11:15	15:15	13:45	2:45




Dobbel de tijd, en zoek het digitaal!

Uitleg : Gooi de dobbelsteen, welke tijd heb je gedubbeld? Zoek de digitale versie hiervan. Kun jij vijf op een rij maken?

























 	 	 
 	 	 
 	 	 
 	 	 

3:55	5:20	1:10	7:25	4:05
8:40	6:55	2:35	3:55	1:35
2:35	2:20	10:55	6:50	6:55
7:25	1:10	1:35	4:05	2:20
6:50	10:55	5:20	8:40	1:10



Dobbel de tijd, en zoek het digitaal!

Uitleg : Gooi de dobbelsteen, welke tijd heb je gedubbeld? Zoek de digitale versie hiervan. Kun jij vijf op een rij maken?

7:20	23:25	4:55	0:50	3:25
15:40	9:55	11:35	2:40	12:05
9:20	14:40	20:10	21:55	3:40
16:55	21:20	11:25	19:20	0:05
12:50	15:25	9:55	8:10	23:35