

# Centenkwestie.

**Inhoud:**

**3 werkbladen van makkelijk naar moeilijk.**











**1 antwoordenblad.**



[vanjufmarjan.nl](http://vanjufmarjan.nl)











# Centenkwestie

Tel de biljetten en munten bij elkaar op en reken uit hoeveel geld er betaald wordt en vul dit in.. Controleer je antwoorden daarna met het antwoordenblad.

1 	2 
3 	4 
5 	6 
7 	8 
9 	10 
Werkblad – I	

# Centenkwestie

Tel de biljetten en munten bij elkaar op en reken uit hoeveel geld er betaald wordt en vul dit in.. Controleer je antwoorden daarna met het antwoordenblad.

<b>11</b>  <input type="text"/>	<b>12</b>  <input type="text"/>
<b>13</b>  <input type="text"/>	<b>14</b>  <input type="text"/>
<b>15</b>  <input type="text"/>	<b>16</b>  <input type="text"/>
<b>17</b>  <input type="text"/>	<b>18</b>  <input type="text"/>
<b>19</b>  <input type="text"/>	<b>20</b>  <input type="text"/>
Werkblad – 2	



# Centenkwestie

Tel de biljetten en munten bij elkaar op en reken uit hoeveel geld er betaald wordt en vul dit in.. Controleer je antwoorden daarna met het antwoordenblad.

21		22	
23		24	
25		26	
27		28	
29		30	

Werkblad - 3

# *Centenkwestie*

---

## Antwoordenblad

---

<b>I</b>	€ 2,40	<b>II</b>	€ 12,65	<b>2I</b>	€ 46,15
<b>2</b>	€ 3,75	<b>12</b>	€ 18,40	<b>22</b>	€ 61,25
<b>3</b>	€ 5,10	<b>13</b>	€ 10,05	<b>23</b>	€ 33,70
<b>4</b>	€ 8,90	<b>14</b>	€ 20,35	<b>24</b>	€ 9,45
<b>5</b>	€ 4,60	<b>15</b>	€ 26,00	<b>25</b>	€ 88,30
<b>6</b>	€ 1,15	<b>16</b>	€ 16,80	<b>26</b>	€ 42,95
<b>7</b>	€ 6,30	<b>17</b>	€ 21,30	<b>27</b>	€ 58,10
<b>8</b>	€ 7,70	<b>18</b>	€ 15,55	<b>28</b>	€ 71,2
<b>9</b>	€ 9,55	<b>19</b>	€ 13,30	<b>29</b>	€ 36,60
<b>10</b>	€ 1,65	<b>20</b>	€ 24,05	<b>30</b>	€ 53,35