


Rekenspeurneus. Sommen tot 1000.



vanjufmarjan.nl



Sommen tot 1000

Rekenspeurneus	Naam :	www.vanjufmarjan.nl Copyright 2025
----------------	--------	---------------------------------------

Vul de ontbrekende getallen in. (Let goed op of je moet doortellen of teruggtellen!!)

- | | |
|---|---|
| 302 - 303 - 304 - ___ - ___ - ___ - 308 - ___ | 625 - ___ - ___ - 628 - 629 - ___ - ___ - 632 |
| ___ - 550 - 551 - ___ - 553 - ___ - ___ - 556 | 980 - 970 - ___ - ___ - 940 - 930 - ___ - ___ |
| 872 - 871 - 870 - ___ - 868 - ___ - 866 - ___ | 244 - 246 - 248 - ___ - 252 - ___ - ___ - 258 |
| 179 - ___ - 181 - ___ - 183 - ___ - ___ - 186 | 396 - 397 - ___ - 399 - ___ - ___ - 402 - ___ |
| 434 - 432 - ___ - 428 - ___ - 424 - ___ - 420 | 550 - 555 - 560 - ___ - ___ - 575 - 580 - ___ |
| 710 - 720 - ___ - 740 - ___ - ___ - 770 - ___ | 488 - 486 - 484 - ___ - ___ - 478 - ___ - 474 |

Rekenbingo. Reken de sommen uit en vind het antwoord op de bingokaart.

- | | |
|-------------|-------------|
| 256 + 401 = | 790 + 120 = |
| 823 - 481 = | 643 - 248 = |
| 475 + 563 = | 478 + 356 = |
| 921 - 687 = | 198 + 182 = |
| 385 - 149 = | 963 - 764 = |
| 532 + 247 = | 534 + 402 = |


234	660	189	934	763
910	779	657	834	936
937	238	★	341	658
380	342	395	1038	199
836	396	379	920	236

Elke lijn horizontaal —, verticaal | of diagonaal / \ is een bingo.
Hoeveel bingo's heb je gemaakt op je kaart?

Antwoord = _____

Rekenquiz 'waar of niet waar?' Zijn de volgende zinnen waar of niet waar.

- | | | | | | | | |
|-------------------------------------|--|------|-----------|-----------------------------|--|------|-----------|
| 936 - 658 is evenveel als 636 - 358 | <table border="1" style="border-collapse: collapse;"> <tr> <td style="padding: 2px;">waar</td> <td style="padding: 2px;">niet waar</td> </tr> </table> | waar | niet waar | 468 + 23 is kleiner dan 498 | <table border="1" style="border-collapse: collapse;"> <tr> <td style="padding: 2px;">waar</td> <td style="padding: 2px;">niet waar</td> </tr> </table> | waar | niet waar |
| waar | niet waar | | | | | | |
| waar | niet waar | | | | | | |
| 491 + 257 is evenveel als 316 + 432 | <table border="1" style="border-collapse: collapse;"> <tr> <td style="padding: 2px;">waar</td> <td style="padding: 2px;">niet waar</td> </tr> </table> | waar | niet waar | 789 - 56 = 734 | <table border="1" style="border-collapse: collapse;"> <tr> <td style="padding: 2px;">waar</td> <td style="padding: 2px;">niet waar</td> </tr> </table> | waar | niet waar |
| waar | niet waar | | | | | | |
| waar | niet waar | | | | | | |
| 235 + 23 is meer dan 182 + 78 | <table border="1" style="border-collapse: collapse;"> <tr> <td style="padding: 2px;">waar</td> <td style="padding: 2px;">niet waar</td> </tr> </table> | waar | niet waar | 587 is groter dan 655 - 64 | <table border="1" style="border-collapse: collapse;"> <tr> <td style="padding: 2px;">waar</td> <td style="padding: 2px;">niet waar</td> </tr> </table> | waar | niet waar |
| waar | niet waar | | | | | | |
| waar | niet waar | | | | | | |



Sommen tot 1000

Rekenspeurneus

Naam :

www.vanjufmarjan.nl

Copyright 2025

Rekenraadsels.

Wat is de opdracht?

Je krijgt een som waarin de getallen vervangen zijn door plaatjes van fruit. Het antwoord van de som staat gewoon als getal geschreven. Jij moet uitzoeken welk getal bij welk fruitplaatje hoort.

Voorbeeld:

$$\text{raspberry} + \text{raspberry} = 300$$

Als je twee dezelfde stukken fruit hebt en samen zijn ze 300, dan is elk stuk fruit apart 150.
Want $150 + 150 = 300$.

De waarde van een stuk fruit blijft hetzelfde in volgende puzzels!!!!!!


$$\text{cherries} + \text{cherries} = 800 \quad \text{cherries} =$$

$$\text{raspberry} + \text{cherries} + \text{apple} = 750 \quad \text{apple} =$$

$$\text{apple} + \text{apple} + \text{lemon} = 420 \quad \text{lemon} =$$

$$\text{lemon} + \text{apple} + \text{cherries} + \text{bananas} = 645 \quad \text{bananas} =$$

$$\text{bananas} + \text{lemon} + \text{lemon} + \text{orange} = 145 \quad \text{orange} =$$



Sommen tot 1000

Rekenspeurneus

Antwoordenblad

www.vanjufmarjan.nl

Copyright 2025


Vul de ontbrekende getallen in. (Let goed op of je moet doortellen of terugtellen!!)

302 - 303 - 304 - 305 - 306 - 307 - 308 - 309
549 - 550 - 551 - 552 - 553 - 554 - 555 - 556
 872 - 871 - 870 - 869 - 868 - 867 - 866 - 865
 179 - 180 - 181 - 182 - 183 - 184 - 185 - 186
 434 - 432 - 430 - 428 - 426 - 424 - 422 - 420
 710 - 720 - 730 - 740 - 750 - 760 - 770 - 780

625 - 626 - 627 - 628 - 629 - 630 - 631 - 632
 980 - 970 - 960 - 950 - 940 - 930 - 920 - 910
 244 - 246 - 248 - 250 - 252 - 254 - 256 - 258
 396 - 397 - 398 - 399 - 400 - 401 - 402 - 403
 550 - 555 - 560 - 565 - 570 - 575 - 580 - 585
 488 - 486 - 484 - 482 - 480 - 478 - 476 - 474

Rekenbingo. Reken de sommen uit en vind het antwoord op de bingokaart.

256 + 401 = 657 790 + 120 = 910
 823 - 481 = 342 643 - 248 = 395
 475 + 563 = 1038 478 + 356 = 834
 921 - 687 = 234 198 + 182 = 380
 385 - 149 = 236 963 - 764 = 199
 532 + 247 = 779 534 + 402 = 936

<u>234</u>	660	189	934	763
<u>910</u>	<u>779</u>	<u>657</u>	<u>834</u>	<u>936</u>
937	238		341	658
<u>380</u>	<u>342</u>	<u>395</u>	<u>1038</u>	<u>199</u>
836	396	379	920	<u>236</u>

Elke lijn horizontaal —, verticaal | of diagonaal / \ is een bingo.
 Hoeveel bingo's heb je gemaakt op je kaart?

Antwoord = 3

Rekenquiz 'waar of niet waar?' Zijn de volgende zinnen waar of niet waar.

936 - 658 is evenveel als 636 - 358

waar	niet waar
------	-----------

468 + 23 is kleiner dan 498

waar	niet waar
------	-----------

491 + 257 is evenveel als 316 + 432

waar	niet waar
------	-----------

789 - 56 = 734


waar	niet waar
------	-----------

235 + 23 is meer dan 182 + 78

waar	niet waar
------	-----------

587 is groter dan 655 - 64

waar	niet waar
------	-----------



Sommen tot 1000

Rekenspeurneus

Antwoordenblad

www.vanjufmarjan.nl

Copyright 2025

Rekenraadsels.

Wat is de opdracht?

Je krijgt een som waarin de getallen vervangen zijn door plaatjes van fruit. Het antwoord van de som staat gewoon als getal geschreven. Jij moet uitzoeken welk getal bij welk fruitplaatje hoort.

Voorbeeld:

$$\text{raspberry} + \text{raspberry} = 300$$

Als je twee dezelfde stukken fruit hebt en samen zijn ze 300, dan is elk stuk fruit apart 150.
Want $150 + 150 = 300$.

De waarde van een stuk fruit blijft hetzelfde in volgende puzzels!!!!!!

$$\text{cherry} + \text{cherry} = 800 \quad \text{cherry} = 400$$

$$\text{raspberry} + \text{cherry} + \text{apple} = 750 \quad \text{apple} = 200$$

$$\text{apple} + \text{apple} + \text{lemon} = 420 \quad \text{lemon} = 20$$

$$\text{lemon} + \text{apple} + \text{cherry} + \text{banana} = 645 \quad \text{banana} = 25$$

$$\text{banana} + \text{lemon} + \text{lemon} + \text{orange} = 145 \quad \text{orange} = 80$$